

Guía N° 2 Historia, Geografía y Ciencias Sociales Segundo año medio

Departamento de Historia, Geografía y Ciencias Sociales.

Nombre				Nota	
Nombre				Puntos	
Curso		Fecha			

OA 2 Analizar la crisis del Estado liberal decimonónico a comienzos del siglo XX, considerando la Gran Depresión de 1929 y el surgimiento de distintos modelos políticos y económicos en Europa, Estados Unidos y América Latina, como los totalitarismos y su oposición a la democracia liberal (por ejemplo, nazismo, comunismo y fascismo), el populismo latinoamericano y los inicios del Estado de Bienestar.

Instrucciones generales.

Tenga a mano el libro de Texto del Estudiante de Historia, Geografía y Ciencias Sociales de Sofía Honeyman y otros; editorial Santillana. Luego responda los ítems sólo con lápiz pasta. Este trabajo tiene un puntaje total de 25 puntos. Usted dispone de 60 minutos para responder.

I VERDADERO O FALSO. (7 puntos)

Lea las páginas 32, 34, 36, 38. Luego anteponga en el casillero que precede a cada afirmación una V o una F según la considere verdadera o falsa.

V o F	Afirmaciones
	1.- El presidente estadounidense Herbert Hoover implementó un conjunto de medidas económicas conocidas como el New Deal.
	2.- La Gran Depresión puso en duda la eficacia del sistema económico y político liberal.
	3.- Como efecto de la gran crisis económica algunos países latinoamericanos centraron sus esfuerzos en la industrialización.
	4.- Los gobiernos oligárquicos de América Latina fueron capaces de enfrentar exitosamente la crisis económica de los años 30.
	5.- Una de las características de los gobiernos populistas es la existencia de un líder fuerte y carismático.
	6.- Después de la Primera Guerra Mundial aumentaron la inversión de los capitales estadounidense en Europa.
	7.- Los sectores medios y la gran burguesía apoyaron propuestas de ultraderechas autoritarias y antidemocráticas.




II SELECCIÓN. (6 puntos)

Lea las páginas 38, 40, 42, 44 y 46; luego encierre en un círculo la alternativa que considere correcta.

<p>1.- ¿Cuál de estas características corresponde a los totalitarismos?</p> <p>a) Existencia del multipartidismo. b) Ausencia de un líder fuerte. c) El uso de la fuerza. d) Respeto por la prensa libre.</p>	<p>4.- ¿Cómo se llama el libro en el cual Hitler desarrollo las ideas centrales del nazismo?</p> <p>a) El Manifiesto Nazista. b) Mi Lucha. c) Utopía. d) El capital.</p>
<p>2.- ¿Cómo se llamaba al grupo paramilitar italiano que actuó por los años 20?</p> <p>a) La Gestapo. b) La KGB. c) Los bolcheviques. d) Los camisas negras.</p>	<p>5.- ¿Qué eran los Gulag en el régimen soviético?</p> <p>a) Organizaciones obreras. b) Granjas colectivas. c) Campos de trabajos forzados. d) Policías políticos.</p>
<p>3.- Si observa el mapa de Europa en 1919 contenido en la página 46 ¿Cuál de estos países tenía un régimen democrático?</p> <p>a) Francia. b) España. c) Turquía. d) URSS.</p>	<p>6.- Si observa el mapa de Europa en 1938 contenido en la página 46 ¿Cuál de estos países tenía un régimen comunista?</p> <p>a) Francia. b) España. c) Italia. d) URSS.</p>

III COMPLETE CUADRO COMPARATIVO. (12 puntos)

Cada casillero solicita una información que deberá extraer de las páginas 40, 42 y 44, la cual corresponde al nombre del principal líder, año de instauración del régimen y dos características.

			
Régimen	El fascismo Italiano	El nazismo alemán	El estalinismo soviético
Nombre del principal Líder			
Año en que se instauró el régimen			
Característica			
Característica			